



Educación Pre-básica y Básica - R.B.D.: 14.507-6
Profesora: Cecilia A. Moraga Labra

Guía de trabajo
Historia, Geografía y Cs. Sociales
Tercero Básico
Semana 1: Repaso

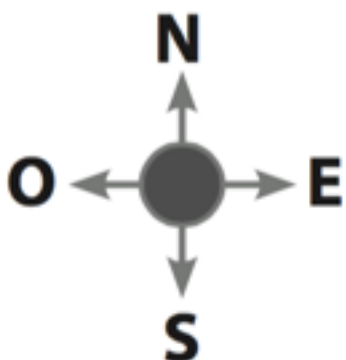
Alumno: _____ Fecha: _____

INSTRUCCIONES (para padres y/o apoderados)	<ol style="list-style-type: none">1. Lea atentamente la siguiente guía de trabajo en compañía de sus hijos o pupilos. En ella encontrará información necesaria para desarrollar las actividades planteadas junto a ellos.2. Puede imprimir la guía, y contestar en ella, o revisarla desde un dispositivo y contestar en su cuaderno. Para esto, anote el número de la guía, la temática, el número de la pregunta y la respuesta.3. Las respuestas serán revisadas y evaluadas una vez que se retomen las clases.
OBJETIVO APRENDIZAJE	Interpretar planos simples y demostrar nociones básicas de orientación espacial, a través del uso de puntos cardinales y puntos de referencia relativa.

I. Los puntos cardinales

¿Recuerdas la **Rosa de los Vientos**? ¿Para qué servía?

La Rosa de los Vientos nos sirve para ver y ubicar los puntos cardinales: Norte, Sur, Este y Oeste. A continuación, escribe el significado de cada letra que compone la Rosa de los Vientos



N : _____

S : _____

E : _____

O : _____

Junto a tus padres, lee las preguntas y encierra en un círculo la letra de la alternativa correcta:

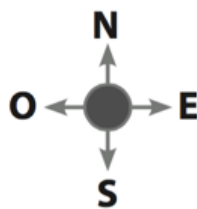
1.- ¿Por cuál punto cardinal sale el sol?

- A) Por el Este
- B) Por el Oeste
- C) Por el Norte

2.- ¿Hacia dónde se pone el sol al atardecer?

- A) Hacia el Oeste
- B) Hacia el Norte
- C) Hacia el Sur

3.- Observa la siguiente imagen,



¿Quién está al Oeste de la Rosa de los Vientos?

- A) Un bombero
- B) Una mujer mapuche
- C) Un hombre ona (pueblo indígena)

¿Quién está al Este de la Rosa de los Vientos?

- A) Un bombero
- B) Una mujer mapuche
- C) Un hombre ona (pueblo indígena)

¿Quién está al Sur de la Rosa de los Vientos?

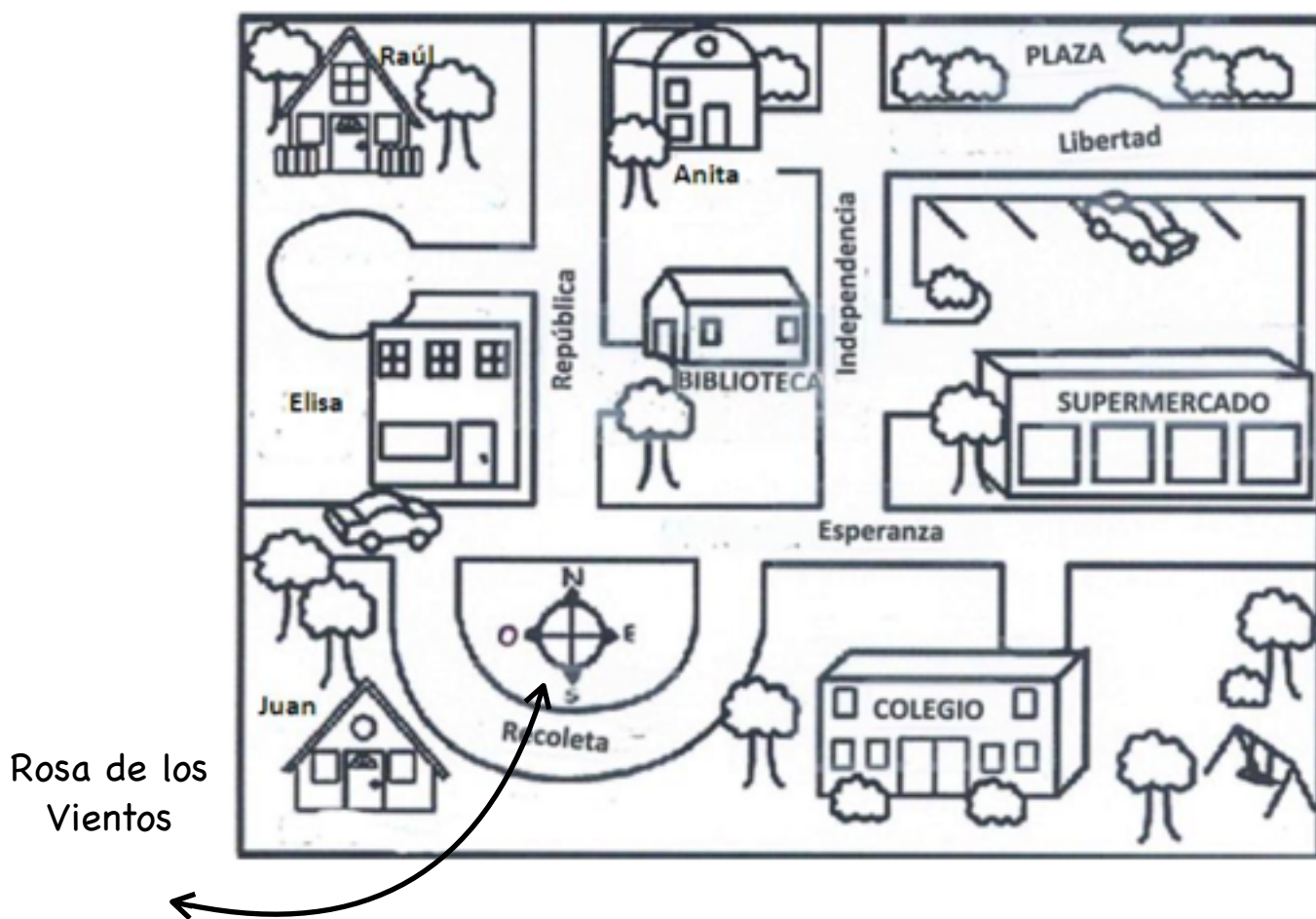
- A) Un bombero
- B) Un hombre ona (pueblo indígena)
- C) Nadie

II. Planos

Los planos son dibujos de un espacio, como una ciudad o una casa, vista desde arriba. Imagina que eres un gigante y que puedes observar desde gran altura tu ciudad, ¿cómo se vería? Probablemente sólo verías los tejados de las casas y las copas de los árboles, además de las calles.

Lo primero que debes hacer en un plano es ubicar la Rosa de los Vientos ¿la encontraste?. Píntala de color rojo. Luego, vemos que en el centro de la ciudad hay una biblioteca. Al Norte de la biblioteca está la casa de Anita y al Oeste la casa de Elisa. ¿Ves cómo funciona? Puedes dar indicaciones utilizando los **puntos cardinales**

¡INTÉNTALO TÚ!



Observa el plano, la Rosa de los Vientos y completa las siguientes oraciones. Puedes responder en tu cuaderno o en la guía

- 1.- Al **Este** de la **biblioteca** está el _____
- 2.- Al **Sur** del **Supermercado** está el _____
- 3.- Al **Este** del **Colegio** se encuentra un _____ y _____
- 4.- ¿De quién es la casa al **Oeste** de la casa de **Anita**?

- 5.- ¿Dónde queda la **casa de Juan**? Utiliza los puntos cardinales para explicar su ubicación.
